

Centro de Estudos Superiores de Maceió

Comissão Executiva do Processo Seletivo

REDAÇÃO / LÍNGUA PORTUGUESA / LITERATURA
LÍNGUA ESTRANGEIRA (INGLÊS / ESPANHOL)
HISTÓRIA (GERAL – DO BRASIL – DE ALAGOAS)
GEOGRAFIA (GERAL – DO BRASIL – DE ALAGOAS)
MATEMÁTICA – FÍSICA – QUÍMICA – BIOLOGIA
SOCIOLOGIA - FILOSOFIA



LEIA COM ATENÇÃO

- 01 - Verifique se o CADERNO DE QUESTÕES contém 65 questões. Caso contrário, reclame ao fiscal da sala um outro caderno completo. Não serão aceitas reclamações posteriores.
- 02 - As questões de Língua Estrangeira (Inglês e Espanhol) estão numeradas de 15 a 21. Responda somente a prova de Língua Estrangeira correspondente a sua opção, feita no ato de inscrição.
- 03 - Cada questão respondida corretamente valerá 01 (um) ponto; as questões não respondidas ou com mais de uma resposta serão consideradas nulas.
- 04 - Observe a numeração do CARTÃO-RESPOSTA, pois o cartão serve para responder a um grupo de até 100 (cem) questões, devendo ser utilizadas as 65 (sessenta e cinco) iniciais.
- 05 - O CARTÃO-RESPOSTA deve apresentar seu número de inscrição impresso e o título da prova.
- 06 - Confira seu CARTÃO-RESPOSTA e, caso observe alguma divergência, avise ao fiscal.
- 07 - Assine a REDAÇÃO no lugar indicado e o CARTÃO-RESPOSTA, no verso, na parte superior.
- 08 - Em cada questão, escolha a alternativa que responde corretamente ao que se pede. Preencha, então, no CARTÃO-RESPOSTA, a janela que corresponde à alternativa escolhida, com caneta esferográfica azul, após a devida conferência.
- 09 - Só preencha o CARTÃO-RESPOSTA, após decidir-se, em definitivo, com relação à alternativa. Para o cômputo da prova, são equivalentes as respostas erradas, nulas ou em branco.
- 10 - Ao término da prova, o candidato devolverá à mesa de fiscalização o CADERNO DE QUESTÕES, a PROVA DE REDAÇÃO e o CARTÃO-RESPOSTA devidamente assinados. Se não o fizer será eliminado do Processo Seletivo.
- 11 - Após conferência pela mesa do material entregue, o candidato assinará a Lista de Presença.

Nome:

Inscrição:

Identidade:

Órgão Expedidor:

Assinatura:



O CRIME (DE PLÁGIO) PERFEITO

Aconteceu em São Paulo, por volta de 1933. Eu fazia crônicas diárias no *Diário de São Paulo* e, além disso, era encarregado de reportagens e serviços de redação; ainda tinha uns bicos por fora. Fundou-se naquela ocasião um semanário humorístico, *O Interventor*, que depois haveria de se chamar *O Governador*. Seu dono era Laio Martins, excelente homem, de cabelos brancos e sorriso claro, boêmio e muito amigo. Pediu-me colaboração; o que podia pagar era muito pouco, mas eu não queria faltar ao amigo. Escrevi algumas crônicas assinadas. Depois comeci a falhar muito, e como Laio reclamasse, inventei um pretexto para não escrever. Seu jornal era excessivamente político, e eu não queria tomar partido na política paulista. Laio não se conformou: "Então ponha um pseudônimo!"

Prometi de pedra e cal, mas não cumpri. Laio reclamou novamente, me deu um prazo certo para lhe entregar a crônica. No dia marcado eu estava atarefadíssimo, e, quando veio o contínuo buscar a crônica para *O Interventor*, eu cocei a cabeça - tive uma ideia. Acabara de ler uma crônica de Carlos Drummond de Andrade no *Minas Gerais*, órgão oficial de Minas, com um pseudônimo - algo assim como Antônio João, ou João Antônio, ou Manuel Antônio, não me lembro mais; ponhamos Antônio João. Botei papel na máquina, copiei a crônica rapidamente e lasquei o mesmo pseudônimo.

Dias depois recebi o dinheiro da colaboração, juntamente com o pedido urgente de outra crônica e um recado entusiasmado do Laio: a primeira estava esplêndida! Daí para frente, encarreguei um menino da portaria, que estava aprendendo a escrever a máquina, de bater a crônica de Drummond para mim; eu apenas revia para substituir ou riscar alguma referência a qualquer coisa de Minas. Pregada a mentira e praticado o crime, o remédio é perseverar nesse rumo hediondo; se às vezes sentia remorso, eu o afogava em chope no bar do alemão ao lado, e o pagava (o chope) com o próprio dinheiro do vale de Antônio João.

O remorso não era, na verdade, muito: Carlos não sabia de nada, e o que eu fazia não era propriamente um plágio, porque nem usava matéria assinada por ele, nem punha o meu nome em trabalho dele. E Laio Martins sorria feliz, comentando com meu colega de redação: "O Rubem não quer assinar, mas que importa? Seu estilo é inconfundível!"

O estilo era inconfundível, e o chope era bem tirado; mas você pode ter a certeza, Carlos Drummond de Andrade, que muitas vezes eu o bebi à sua saúde, ou melhor, à saúde de Antônio João, isto é, à nossa. Dos 25 mil-réis que Laio me pagava, eu dava 5 para o menino que batia à máquina; era muito dinheiro para um menino naquele tempo, e isso fazia o menino feliz. Enfim, lá em São Paulo, todos éramos felizes graças ao seu trabalho: Laio, o menino, os leitores e eu - e você em Minas não era infeliz.

Não creio que possa haver um crime mais perfeito.

(Rubem Braga)

01. O Texto 1, para ser compreendido satisfatoriamente, tem que ser reconhecido como um exemplar:

- A) dos textos predominantemente descritivos, a partir de um prisma objetivo de discussão.
- B) do gênero comentário opinativo, com apoio em diferentes ideias e hipóteses explícitas.
- C) dos textos literários narrativos, cuja elaboração incide sobre fatos comuns do cotidiano.
- D) dos textos dissertativos; poderia figurar como editorial de um jornal de caráter político.

02. O Texto se inicia assim: "Aconteceu em São Paulo, por volta de 1933". A propósito do verbo sublinhado, podemos dizer que:

- A) o autor parte do pressuposto de que o leitor é capaz de identificar a referência omitida na superfície do texto.
- B) trata-se de um verbo impessoal, ou seja, um verbo cujo 'agente' não aparece explicitamente no texto.
- C) as circunstâncias referidas (de lugar e tempo) dispensam a referência explícita a seu sujeito.
- D) está empregado metaforicamente e, por isso, dispensa a explicitude de seu sujeito sintático.

03. Acerca de fragmentos do Texto 1, podem ser feitas algumas observações. Vejamos.

- 1) Em: "Prometi de pedra e cal, mas não cumpri.", os complementos dos dois verbos sublinhados estão implícitos nesse período.
- 2) No trecho: "se às vezes sentia remorso, eu o afogava em chope no bar do alemão" - o recurso da linguagem metafórica foi usado.
- 3) Em: "copiei a crônica rapidamente e lasquei o mesmo pseudônimo", fica evidente o estilo meio coloquial de que o autor faz uso.
- 4) Em: "eu o bebi à sua saúde, ou melhor, à saúde de Antônio João", as expressões destacadas remetem a hábitos culturais vigentes.
- 5) Em: "eu dava 5 para o menino que batia à máquina; era muito dinheiro para um menino naquele tempo, e isso fazia o menino feliz", a repetição da palavra 'menino' prejudicou a clareza do trecho.

Estão corretas:

- A) 1, 2, 3, 4 e 5
- B) 1, 2, 3 e 4 apenas
- C) 1, 3 e 5 apenas
- D) 2, 4 e 5 apenas

04. Um trecho em que aparece, literalmente, a palavra do Laio Martins, o dono do Jornal para o qual Rubem Braga escrevia é:

- A) "o que podia pagar era muito pouco".
- B) "lá em São Paulo, todos éramos felizes".
- C) "a primeira estava esplêndida!".
- D) "o chope era bem tirado".

05. Analise o trecho: “O remorso não era, **na verdade**, muito: Carlos não sabia de nada, e o que eu fazia não era propriamente um plágio, porque nem usava matéria assinada por ele, nem punha o meu nome em trabalho dele”. Considere agora os comentários que são feitos a respeito da construção desse trecho.

- 1) o segmento sublinhado constitui uma espécie de justificativa para o pouco remorso sentido.
- 2) o fragmento em negrito é uma expressão de reforço; exprime certeza e segurança.
- 3) o pronome ‘ele’ poderia ser substituído pelo outro ‘lhe’: *nem lhe usava matéria assinada*.
- 4) a conjunção ‘porque’, nesse contexto, poderia ser substituída pela locução ‘uma vez que’.

Estão corretas:

- A) 1, 2 e 4 apenas
- B) 1, 2 e 3 apenas
- C) 1, 3 e 4 apenas
- D) 1, 2, 3 e 4

06. No trecho: “Depois comecei a falhar muito, e como Laio reclamasse, inventei um pretexto para não escrever”. O segmento sublinhado poderia ser substituído (sem alteração semântica) por

- A) quando Laio reclamava...
- B) ainda que Laio reclamasse...
- C) já que Laio reclamava...
- D) não obstante a reclamação de Laio...

07. A concordância do verbo com o sujeito da oração é uma exigência da norma culta falada e escrita em contextos formais. Quanto a essa norma, está correta a seguinte alternativa:

- A) Não creio que possam haver crimes mais perfeitos do que este.
- B) Crimes mais perfeitos do que este pode terem havido; mas acho difícil.
- C) Houveram crimes mais perfeitos que este? Sim, muitos outros existiram.
- D) Nenhum dos vários crimes cometidos foi mais perfeito que este. Aposto.

LITERATURA -

Essa negra Fulô

Ó Fulô! Ó Fulô!
(era a fala da Sinhá)
(...)

vem cocar minha coceira,
vem me catar cafuné,
vem balançar minha rede,
vem me contar uma história,
que eu estou com sono, Fulô!

(...)

Ó Fulô! Ó Fulô!
Cadê meu frasco de cheiro
Que teu Sinhô me mandou?
- Ah! Foi você que roubou!
Ah! Foi você que roubou!
O Sinhô foi ver a negra
Levar couro do feitor
(...)

(Jorge de Lima).

08. O poema de Jorge de Lima poderia servir de ponto de partida para as seguintes considerações:

- 1) A Literatura, apesar de ser, fundamentalmente, criação artística, pode cumprir também a função de denunciar a miséria e a injustiça social.
- 2) A poesia de cunho social e ideais libertários teve, em Jorge de Lima, como em Castro Alves, uma voz de grande expressão.
- 3) No Modernismo, a miséria e o sofrimento do povo também foram tema literário, como em João Cabral de Melo Neto e Cruz e Sousa.
- 4) Graciliano Ramos encontrou, em seu ofício de romancista, a oportunidade para denunciar as injustiças sociais de sua época.

Estão corretas:

- A) 1, 2 e 4 apenas
- B) 1, 2 e 3 apenas
- C) 1, 3 e 4 apenas
- D) 1, 2, 3 e 4

09. Cada escola literária tem seus representantes mais notáveis. Identificá-los é uma forma de conhecer aspectos da trajetória cultural do país, uma vez que não existe Literatura fora de um contexto histórico-social. Analise as correlações feitas abaixo. Uma apenas está correta. Identifique-a.

- A) O Barroco – escola do rebuscamento e da exploração dos contrastes – teve em Padre Antônio Vieira e Gregório de Matos seus grandes representantes.
- B) O Romantismo – época literária do resgate dos ‘temas clássicos’ – encontrou na poesia de Cláudio Manuel da Costa e Tomás Antônio Gonzaga seus maiores expoentes.
- C) O Parnasianismo – escola da ‘poesia indianista’ – foi o período glorioso da poesia de Gonçalves Dias e Castro Alves.
- D) O Modernismo – escola das pretensões nacionalistas – teve em Machado de Assis e Euclides da Cunha os nomes maiores de seu romance social.

10. Essa escola literária teve a sociedade como centro de sua criação artística, pois optou por explicitar os comportamentos sociais mais típicos da época; o interesse pelas situações concretas afastou seu olhar da perspectiva idealizada do Romantismo. Tem em Machado de Assis o seu maior representante. Estamos falando de:

- A) Realismo.
- B) Parnasianismo.
- C) Simbolismo.
- D) Modernismo.

11. Observe o fragmento do poema abaixo, *Construção*, de Chico Buarque.

(...)
 Subiu a construção como se fosse máquina
 Ergueu no patamar quatro paredes sólidas
 Tijolo com tijolo num desenho mágico
 Seus olhos embotados de cimento e lágrima
 Sentou pra descansar como se fosse sábado
 Comeu feijão com arroz como se fosse um príncipe
 Bebeu e soluçou como se fosse um naufrago
 (...)

É possível identificar, no fragmento do poema de Chico Buarque, características:

- A) da poesia do Arcadismo.
 B) do romance realista.
 C) da poesia e prosa parnasianas.
 D) dos poemas do Concretismo.
12. “Os Sertões, a Bíblia da nacionalidade brasileira” teve como autor:
- A) Graça Aranha; expressa a multiplicidade dos interesses dominantes da época.
 B) Monteiro Lobato; explora a desolação nacional provocada pela crise do café.
 C) Lima Barreto; é um romance que retrata aspectos da vida urbana da época.
 D) Euclides da Cunha; é uma obra ligada ao determinismo do Naturalismo.
13. “Esgotando sucessivas tiragens de seus romances, eles souberam criar um tipo de narrativa que caiu no gosto popular. Os enredos dinâmicos e a linguagem simples tornavam suas obras atraentes para o público num momento em que o contexto social e político fazia aumentar o desejo de conhecer melhor a realidade do Brasil. O surgimento de tantos novos romancistas que abordavam, por meio da ficção, aspectos da realidade socioeconômica acabava por atender às expectativas de diferentes leitores”. O trecho acima se refere:
- A) à produção literária do Modernismo, representada sobretudo pela prosa de Manuel Bandeira e Carlos Drummond de Andrade.
 B) à famosa prosa pós-moderna, que inclui, entre outros, Euclides da Cunha e Alcântara Machado.
 C) ao projeto literário do chamado ‘Romance Regionalista’, que inclui as figuras de José Lins do Rego, Rachel de Queiroz e Graciliano Ramos.
 D) ao período posterior às duas grandes guerras, com Mário de Andrade, Oswald de Andrade e Monteiro Lobato.
14. Entre os representantes da prosa pós-moderna, podemos destacar os nomes dos seguintes autores:
- 1) Guimarães Rosa, com *Grandes Sertões Veredas* e *Primeiras estórias*.
 - 2) Clarice Lispector, com *Cidade Sitiada* e *A hora da estrela*.
 - 3) João Cabral de Melo Neto, com *Morte e vida Severina* e *A educação pela pedra*.

Está(ão) correta(s):

- A) 1 e 2 apenas
 B) 1 e 3 apenas
 C) 2 apenas
 D) 1, 2 e 3

India: a dumping yard for world e-waste

The recent incident of radiation in West Delhi’s Mayapuri Industrial area may have raised alarm bells on the danger posed by the unplanned dumping of e-waste. But the import of such hazardous material continues unabated in the country. The figures obtained from one major port alone, from April 2009 to December 2009, have revealed that large numbers of used computer parts, including the obsolete Cathode Ray Tube (CRT) monitors, with hazardous presence of lead are making their way into India from South Asia, Finland and the Middle East.

According to figures available from well-placed sources, 6,200 used CRT monitors were shipped into India — largely from Singapore and followed by South Africa — between April and December last year.

This apart, 5,761 old and used printers were also imported from various destinations that prominently include parties from the US, Canada, France and Finland, besides the Middle-east and South Asia. Other major parts of computers include 2,868 assorted CPUs, 3,750 assorted hard disks, 2,156 assorted mother boards and 2,134 assorted computer systems PIV, besides used power supply systems.

Of these, the import of large numbers of CRT monitors is one of the major causes for concern. “CRT monitors make use of leaded glass that contains nearly 2-2.5 kg of the metal.

Nearly 40,000- 50,000 tonnes of used electronic equipment find their way into India unnoticed every month, much of which are getting routed to illegal electronic dumping grounds every month.

Men, women and even minor boys are seen tearing apart personal computers, monitors and other electronic hardware with their bare hands, sifting through the components. The reusable parts are segregated, soldering is done with lead whereby its hazardous fumes are directly inhaled.

Unlike the developed countries, there are no set norms for handling of electronic waste, and secondly cheap labour not only makes disposal cost-effective and profitable for local traders but also encourages the developed countries to push electronic wastes to countries like India.

Adaptado de: <<http://www.dailypioneer.com/248590/India-a-dumping-yard-for-world-e-waste.html>> Acessado em: 02 de junho de 2010

Answer the following 4 questions according to text 1

15. The recent incident of radiation in West Delhi’s Mayapuri Industrial area
- A) caused no reaction whatsoever as to the e-waste problem in India.
 B) made the imports of e-waste into India have its lowest rates ever.
 C) possibly triggered a warning concerning the e-waste problem in India .
 D) made the government shut down all e-waste dumping areas in India.

16. As for e-waste products shipped into India between April and December last year

- A) only CPUs were to be found.
- B) mother boards were not included.
- C) printers were the least in number .
- D) most of them were CRT monitors.

17. CRT monitors are among the main concerns

- A) on account of their high content of lead.
- B) because they aren't as new as the other parts.
- C) due to the fact that their price is very high.
- D) because of their great importance for computers .

18. Electronic hardware waste shipped into India

- A) goes straight to illegal dumping areas.
- B) is disassembled in very unsafe conditions.
- C) knows of no children's labor.
- D) follows strict regulations for handling.

Text 2

EU rules spark tyre dumping fears

Dumping tyres on landfill sites will be phased out

Britain could find itself swamped with illegally-dumped tyres when new EU (European Union) rules on their disposal come into force next year.

The Environment Agency has given the warning and it fears the increased cost of disposing of the tyres could prompt a boost in the black market.

It reports that there have already been huge dumps created by tyres in several parts of the country.

Such dumping costs the tax payer around £2m a year to clear up, not to mention the environmental risk of fire and pollution.

Around 50m tyres are discarded each year in the UK -- at the moment about a third of them are put into landfill sites.

But from next year that means of disposal is due to be phased out across Europe and getting rid of tyres legally will become more expensive.

The Environment Agency estimates up to 13m tyres are already stockpiled in England and Wales at sites never intended to store them.

The Environment Agency says fly tipping of tyres is already a major problem.

Some areas of the country have massive illegal dumps - one in Powys in Wales is believed to contain about 9m tyres.

There are six additional stockpiles in England and Wales holding more than 100,000 tyres.

The agency wants the courts to impose much larger fines on people caught dumping tyres.

It is also calling on garages to ensure they only hand over used tyres to authorised contractors.

Environment Agency Chairman Sir John Harman warned today: "As a nation, we have a problem with the disposal of tyres. And it's a problem that can only get worse if action isn't taken now. It's not just the person who dumps these tyres who's to blame, it's also the fitter happy to hand over his waste tyres to a collector without checking he is legitimate."

(Disponível em: <http://news.bbc.co.uk/2/hi/uk_news/2069005.stm>
Acessado em: 2 de junho de 2010).

Answer the following 3 questions according to Text 2.

19. The dumping of waste tyres in the UK

- A) is far from being a problem.
- B) faces no interference from the EU.
- C) is in for necessary changes.
- D) never worried local authorities.

20. In order to get rid of tyres legally in the future people will

- A) certainly spend more money than now.
- B) keep spending just as much money as now.
- C) not have to worry about any cost.
- D) probably spend less money than now.

21. According to Environment Agency Chairman, the tyre dumping problem

- A) will certainly have to wait for better ideas to come along.
- B) is bound to get bigger if action is not taken at this moment.
- C) is the sole responsibility of those who dump the tyres.
- D) is likely to be resolved in the near future by the government.

El gitanillo cantor

El gitanillo, a la luz de un farol, cuenta un montón de calderilla. El día no se le dio mal: ha reunido, contando desde la una de la tarde hasta las once de la noche, cinco euros y sesenta céntimos. Por los cinco euros de calderilla le dan cinco euros y cincuenta en cualquier bar; los bares andan siempre mal de cambio.

El gitanillo cena, siempre que puede, en una taberna que hay por detrás de la calle de Preciados, bajando por la calle de los Ángeles; un plato de alubias, pan y un plátano le cuestan tres euros veinte.

El gitanillo se sienta, llama al camarero, le da tres veinte y espera a que le sirvan. Después de cenar, sigue cantando, hasta las dos, por la calle de Echegaray, y después procura coger el tope del último tranvía. El gitanillo, creo que ya lo dijimos, debe andar por los seis años.

El niño que canta flamenco duerme debajo de un puente, en el camino del cementerio. El niño que canta flamenco vive en el seno de una familia gitana, donde cada uno de los miembros que la forman se las agencia como mejor puede, con una libertad y una autonomía absolutas.

El niño que canta flamenco se moja cuando llueve, se hiela si hace frío, se achicharra en el mes de agosto, mal guarecido a la escasa sombra del puente.

El niño que canta flamenco tiene un pie algo torcido; rodó por un desmorte, le dolió mucho, anduvo cojeando algún tiempo...

(Camilo José Cela, fragmentos de *La Colmena*).

15. Una vez leído el texto por completo, podemos afirmar que el tema fundamental que en él se trata es:
- A) una crítica sobre la situación en la que se encuentra la minoría étnica gitana.
 - B) una poética descripción de un niño precoz que se gana la vida cantando por las calles.
 - C) una relación de los hábitos culinarios en España.
 - D) una desgarrada descripción sobre las duras condiciones de vida de un niño gitano.
16. El niño que canta flamenco vive:
- A) por detrás de la calle Preciados.
 - B) en un lugar que se encuentra bajando por la calle de los Ángeles.
 - C) debajo de un puente.
 - D) cerca de la calle Echegaray.
17. En el penúltimo párrafo del texto aparece el siguiente fragmento: "mal guarecido a la escasa sombra del puente". La expresión destacada puede ser sustituida, sin perder el sentido con el que aparece en el texto, por
- 1) mal protegido
 - 2) mal guarnecido
 - 3) maltratado
 - 4) mal ataviado
- Son correctas:
- A) 1, 2, 3 y 4
 - B) 1 y 2 solamente

- C) 1, 2 y 4 solamente
- D) 1 y 3 solamente

18. Indique, relacionando las columnas que aparecen a continuación, cuáles serían los vocablos y expresiones equivalentes en portugués a las siguientes palabras y expresiones españolas, considerando el sentido que poseen en el contexto específico en que aparecen.
- | | |
|---------------|----------------|
| 1) taberna | () garçom |
| 2) calderilla | () bonde |
| 3) tranvía | () feijão |
| 4) alubias | () trocadinho |
| 5) camarero | () buteco |
- La secuencia correcta es:
- A) 5, 1, 4, 3, 2
 - B) 5, 3, 4, 2, 1
 - C) 5, 1, 2, 4, 3
 - D) 5, 4, 3, 2, 1
19. En el segundo párrafo del texto aparece la siguiente expresión: "un plato de alubias, pan y un plátano le cuestan tres euros veinte." Con respecto a la forma destacada, le, es correcto afirmar que:
- A) se refiere a "el gitanillo", que aparece al principio del párrafo
 - B) se refiere al plato de alubias que va a comer.
 - C) hace referencia a la expresión "el niño que canta flamenco", que aparece más adelante.
 - D) está relacionada con el camarero que va a servir al gitanillo.
20. En el cuarto párrafo del texto, aparece el siguiente fragmento: "cada uno de los miembros que la forman se las agencia como mejor puede". Con la expresión que aparece destacada, el autor pretende decir que
- 1) cada uno debe buscarse su sustento.
 - 2) en el seno de esa familia no hay lugar para la protección del otro.
 - 3) trabajan en una agencia de la mejor forma posible.
 - 4) existen recursos dentro de la familia que cada miembro utiliza a su conveniencia.
- Son correctas solamente:
- A) 2 y 3
 - B) 3 y 4
 - C) 1 y 2
 - D) 2 y 4
21. Acerca del gitanillo, en función de las informaciones contenidas en el texto, podemos decir que:
- 1) canta por las calles.
 - 2) come, la más de las veces, en una taberna.
 - 3) vive debajo de un puente.
 - 4) sufre las inclemencias del tiempo.
- Son correctas:
- A) 1 y 3 solamente
 - B) 1, 2 y 3 solamente
 - C) 1, 2, 3 y 4
 - D) 1 y 2 solamente

HISTÓRIA

- 22.** Ao longo da sua história, a humanidade tem vivenciado pequenas e grandes tragédias como frutos da intolerância religiosa. Um exemplo dessa afirmativa pode ser considerada a morte de cerca de mil judeus provocada pelas Cruzadas, em 1096, na atual região da Alemanha. As Cruzadas:
- foram expedições a Roma comandadas pelo Papa Bonifácio VIII com o fim de obterem o perdão dos pecados.
 - representaram a redução do poder dos papas diante das monarquias absolutas europeias.
 - foram expedições organizadas, sob a orientação católica, com o objetivo de retomar a cidade de Jerusalém do domínio muçulmano.
 - constituíram-se como a resposta do catolicismo ao movimento da Reforma Religiosa liderada, na Alemanha, por Martinho Lutero.
- 23.** No bojo do movimento cultural europeu, reconhecido como Renascimento, a teoria do *Geocentrismo* (*a terra como o centro do universo*) difundida pela doutrina católica, foi contestada, surgindo em seu lugar a tese:
- Heliocêntrica, formulada por Nicolau Copérnico (1473-1543).
 - Heliocêntrica, formulada por Filippo Brunelleschi (1377-1446).
 - Heliocêntrica, formulada por Leon Batista Alberti (1404-1472).
 - Heliocêntrica, formulada por Isaac Newton (1643-1727).
- 24.** Os ideais iluministas presentes na Revolução Francesa (1789) não ficaram restritos à França. Eles difundiram-se em outras regiões do mundo inspirando, por exemplo, os movimentos de independência de muitos países da América espanhola. Sobre esse tema, analise as proposições a seguir.
- Os movimentos de emancipação política em várias regiões da América espanhola se intensificaram com a deposição do rei Fernando VII do trono espanhol.
 - Diversos setores da sociedade se integraram nos movimentos de emancipação da América espanhola, entretanto apenas alguns, como os *criollos*, foram beneficiados com os resultados.
 - Uma das grandes conquistas da independência da América espanhola consistiu na implantação da reforma agrária, passando as *haciendas* a serem loteadas a partir de então.
 - Com a saída dos espanhóis do interior peruano (1826) nasceu o Alto Peru, que mais adiante seria dividido em duas repúblicas: Peru e Chile.
- Estão corretas apenas:
- 2 e 3
 - 1 e 2
 - 1 e 4
 - 2 e 4
- 25.** A expansão da fé católica consistiu numa das principais justificativas utilizadas pelos monarcas portugueses para colonização do Brasil, o que, na prática, se revestiu de vários significados, entre os quais:
- a intensificação do tráfico de africanos para serem escravizados no Brasil.
 - a organização fundiária pelo sistema de sesmarias.
 - o monopólio do comércio pela coroa portuguesa.
 - a imposição de outros valores culturais aos grupos indígenas nos espaços missionários.
- 26.** Messianismo e Cangaço podem ser descritos como movimentos sociais representativos da insatisfação e dos problemas econômicos vivenciados pelas populações mais pobres. Com relação ao Cangaço, é correto afirmar que:
- ele se expandiu após a proclamação da República em várias regiões do Nordeste, constituindo-se uma de suas principais áreas de dominação o agreste alagoano.
 - a Revolução de 1930 pode ser considerada como o marco inaugural do movimento do Cangaço no Nordeste.
 - a inexistência de hierarquia entre os membros dos bandos de cangaço se constituía uma das suas principais características.
 - foi um movimento rebelde comandado por forças militares de Alagoas, Pernambuco e Bahia.
- 27.** Dois presidentes da República brasileira detinham a patente de marechais, Deodoro da Fonseca e Floriano Peixoto, ambos alagoanos, o que explica a designação de “terra dos marechais” para esse Estado. Após a guerra do Paraguai, o exército brasileiro:
- foi desvalorizado em função da sua fraca participação nesse conflito.
 - passou a representar os interesses dos grupos oligárquicos rurais.
 - fortaleceu-se politicamente, organizando-se numa corporação capaz de superar a Guarda Nacional.
 - baseado na teoria positivista de Augusto Conte, defendia a continuidade do regime monárquico.
- 28.** “Sexta feira 13 de setembro de 1957, às 14h30, explodiu a cena mais violenta da história parlamentar brasileira. Durante quase uma hora, deputados nas bancadas e corredores do Palácio Tavares Bastos trocaram tiros que resultaram na morte do deputado Humberto Mendes, sogro do governador, além de saírem gravemente feridos outros cinco deputados, um jornalista do Sul e um funcionário da Casa”.
- Essa cena da história política alagoana, descrita pelo historiador Douglas Aprato Tenório, com repercussões por todo o país, foi vivenciada no período de governo:
- do jornalista Arnon de Mello, cuja eleição resultou das alianças entre Liberais e Conservadores.
 - do médico Ezequias da Rocha, que, a muito custo, concordou em ser candidato ao governo alagoano.
 - de Muniz Falcão, eleito por forças populares que se opunham às elites oligárquicas de Alagoas.
 - do general Pedro Aurélio, representante dos interesses da classe média alagoana.

GEOGRAFIA

Estamos atravessando um longo período de transição internacional, iniciado há mais de duas décadas, com o fim da **Guerra Fria**. A era da rivalidade estratégica entre EUA e União Soviética deu lugar a uma outra, em que os americanos passaram a ter um poder muito maior do que qualquer outro país e a desfrutar de um grau de influência sem precedentes”.

Richard Haass, O Estado de São Paulo, maio de 2010.

29. A Guerra Fria, referida no texto acima:

- 1) significou o enfrentamento de duas ideologias alimentadas pelo conteúdo ideológico dos valores de ordem socialista e capitalista.
- 2) representou um confronto entre socialistas e anarquistas e ganhou esse nome porque foi utilizada uma poderosa estratégia bélica envolvendo Estados Unidos e Rússia.
- 3) caracterizou-se como uma luta ideológica que se iniciou desde o fim da Primeira Guerra Mundial até a primeira metade dos anos 1960.
- 4) ocorreu com o surgimento da bomba atômica e desencadeou o pesadelo da chamada "hecatombe nuclear".

Estão corretas apenas:

- A) 1.
- B) 2
- C) 1 e 3
- D) 2, 3 e 4


“talvez nenhum outro termo do ideário dominante venha encontrando tanto apelo como a “sustentabilidade”. Em uma sociedade cada vez mais insustentável, ela se tornou uma palavra mágica...na era do aquecimento global que sufoca o mundo em quase todas as partes, no apogeu da sociedade do descartável, do involucral e do supérfluo, quanto mais se agride a natureza, quanto mais se avança na sociedade do produtivismo destrutivo, mais se propaga a idéia da “sustentabilidade”.

Ricardo Antunes, 2010

30. A sustentabilidade, referida no texto de Ricardo Antunes significa:

- A) condição não sistêmica relacionada com a continuidade dos aspectos culturais e ambientais da sociedade humana.
- B) capacidade para dirigir o curso de uma empresa por vias que valorizam e recuperam formas de um modelo econômico ambiental.
- C) suprimento das necessidades da geração presente sem afetar a habilidade das gerações futuras de suprir as suas.
- D) crescimento econômico real do valor da produção, sendo relativamente constante e duradouro, assentado em bases consideradas instáveis e seguras.

31. A imagem apresentada abaixo corresponde ao Golfo:



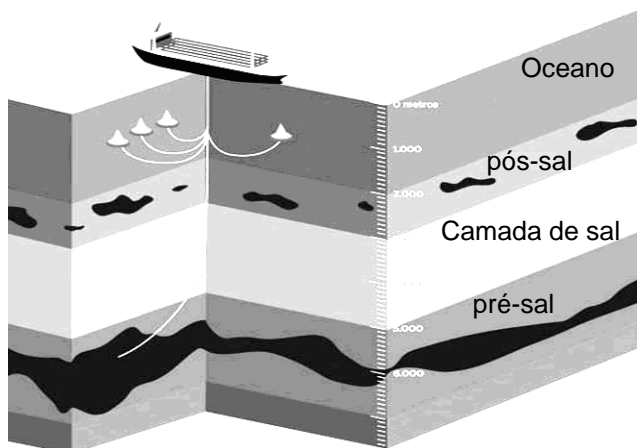
- A) do México, que sofreu recentemente um grave desastre ecológico.
- B) de Aden, que possibilita uma passagem estratégica para o Mar Vermelho.
- C) Pérsico, que representa uma das maiores reservas de petróleo do mundo.
- D) de Omã, onde se localiza a área portuária para o comércio entre Paquistão e Irã.

32. O conteúdo da charge abaixo trata:



- A) da aliança dos países emergentes pós-ocidentais, como o Brasil e o Irã, sobre a energia atômica fabricada com urânio enriquecido nos Estados Unidos.
- B) da questão nuclear iraniana, com a participação do Brasil na assinatura de um acordo pacífico sobre o enriquecimento do urânio.
- C) do acordo turco-brasileiro sobre o urânio enriquecido na China e na Coreia do Norte para fabricação de armas letais contra os países do leste asiático.
- D) da adoção de sanções severas contra o Brasil porque vem armazenando urânio enriquecido para produzir bomba atômica.

33. Sobre as reservas de petróleo encontradas na camada pré-sal do litoral brasileiro e representadas na figura seguinte, é correto afirmar:



- 1) o termo pré-sal refere-se a um conjunto de rochas localizadas nas porções marinhas de grande parte do litoral brasileiro.
- 2) convencionou-se chamar de camada pré-sal porque ela se forma em um intervalo de rochas que se estende por baixo de uma extensa camada de sal.
- 3) o pré-sal é um conjunto de reservatórios mais recentes que a camada de sal.
- 4) esse sal foi depositado quando ocorreu a abertura do oceano Atlântico, durante a fase de mar profundo e de clima úmido e semiúmido.

Estão corretas:

- A) 1 apenas
 - B) 1 e 2 apenas
 - C) 3 e 4 apenas
 - D) 1, 2, 3 e 4.
34. As restingas, uma das feições de relevo encontradas no território alagoano:
- A) são formas de relevo típicas de áreas de tabuleiros; encontram-se sobretudo em terrenos cristalinos.
 - B) são elaboradas sob condições climáticas semiáridas do espaço geográfico ocidental do Estado.
 - C) são formas sedimentares de relevo litorâneo, ocasionadas pela dinâmica das águas marinhas, em especial as correntes secundárias.
 - D) são existentes na foz dos principais rios alagoanos, mas raramente se desenvolvem paralelamente à linha da costa.

35. As mesorregiões do Estado de Alagoas, representadas no mapa abaixo pelos números 1, 2 e 3, compreendem respectivamente:



- A) Sertão Alagoano, Agreste Alagoano e Leste Alagoano.
- B) Zona da Mata Alagoana, Agreste Alagoano e Litoral Alagoano.
- C) Sertão Alagoano, Agreste Alagoano e Zona da Mata Alagoana.
- D) Agreste Alagoano, Zona da Mata Alagoana e Leste Alagoano.

MATEMÁTICA

36. Se o coração de uma pessoa bate uma vez a cada segundo, qual dos valores abaixo está mais próximo do número total de batidas do coração de uma pessoa que viveu 80 anos?

- A) 10^9
- B) 10^8
- C) 10^7
- D) 10^6

37. As probabilidades respectivas de os times X, Y e Z vencerem um campeonato são $1/6$, $1/10$ e $1/15$. Qual a probabilidade de nenhum dos três times vencer o campeonato?

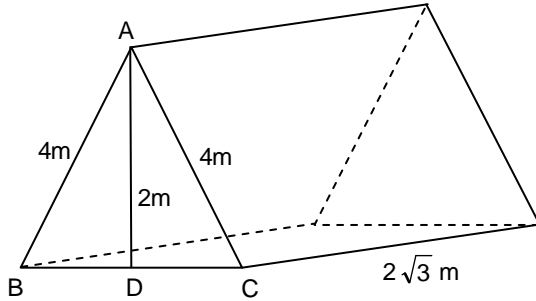
- A) $5/6$
- B) $4/5$
- C) $3/4$
- D) $2/3$

38. Um fazendeiro cria vacas e ovelhas, e o número de vacas é pelo menos 6, e o de ovelhas é pelo menos 8. O número total de vacas e ovelhas na fazenda não pode ultrapassar 48, e o lucro do fazendeiro com a criação de uma vaca é de R\$ 200,00, e com a criação de uma ovelha é de R\$ 100,00. Escolhendo adequadamente o número de vacas e de ovelhas para criar, qual o maior lucro que o fazendeiro pode obter com a criação?

- A) R\$ 8.800,00
- B) R\$ 8.900,00
- C) R\$ 9.000,00
- D) R\$ 9.100,00

FÍSICA

39. A ilustração a seguir é de uma tenda de acampamento que tem a forma de um prisma triangular reto. A entrada da tenda tem a forma de um triângulo isósceles ABC, com os lados congruentes AB e AC medindo 4m, e a altura AD medindo 2m. Se a profundidade da tenda é de $2\sqrt{3}$ m, como indicado na ilustração, qual o volume do interior da tenda?



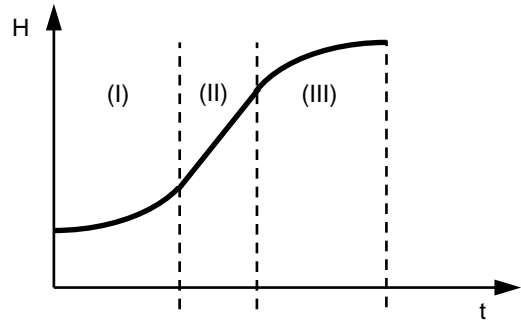
- A) $24,6m^3$
 B) $24,0m^3$
 C) $23,4m^3$
 D) $22,8m^3$
40. A profundidade da água, em determinado ponto de um porto, é dada, ao longo do dia, pela função $p(t) = 4 - 3 \cdot \text{sen}(30t)^\circ$, com t sendo o número de horas a partir da meia noite, e $p(t)$ dada em metros. Qual a profundidade da água às 5 horas da manhã?

- A) 2,8m
 B) 2,7m
 C) 2,6m
 D) 2,5m

41. Entre 2.009 e 2.010, o número de casos de dengue de uma cidade aumentou de 5%. Se admitirmos, para o número de casos de dengue nos anos futuros, o mesmo crescimento cumulativo anual, em quantos anos, contados a partir de 2010, o número de casos triplicará (comparado com o número de casos de 2010)? Indique o valor mais próximo. (Dados: use as aproximações $\log_{10} 3 \approx 0,48$ e $\log_{10} 1,05 \approx 0,021$.)


- A) 20 anos e 6 meses
 B) 21 anos e 8 meses
 C) 22 anos e 10 meses
 D) 23 anos

42. Um elevador em movimento ascendente tem a sua distância ao solo, H , em função do tempo, t , descrita pelo gráfico a seguir. Os trechos (I) e (III) do gráfico representam arcos de parábola, enquanto que o trecho (II) corresponde a um segmento de reta. Considere as siglas MRU (movimento retilíneo uniforme), MRUA (movimento retilíneo uniformemente acelerado) e MRUR (movimento retilíneo uniformemente retardado). Pode-se concluir que, nos trechos (I), (II) e (III), o elevador encontra-se, respectivamente, em:



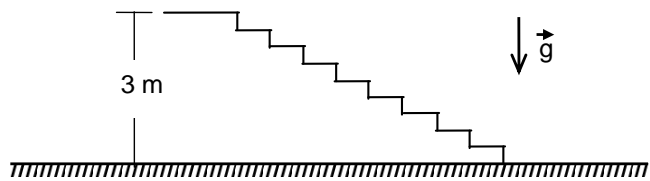
- A) MRU, MRUA, MRU.
 B) MRUA, MRU, MRUR.
 C) MRU, MRUR, MRU.
 D) MRUR, MRU, MRUA.

43. A figura a seguir ilustra um operário de construção tentando erguer um balde inicialmente em repouso através de um sistema com duas roldanas, sendo uma fixa e uma móvel. Despreze os atritos e considere os fios e as roldanas ideais. Denotando o peso do balde por P , pode-se afirmar que, para erguer o balde, o operário terá de realizar uma força superior a, no mínimo,



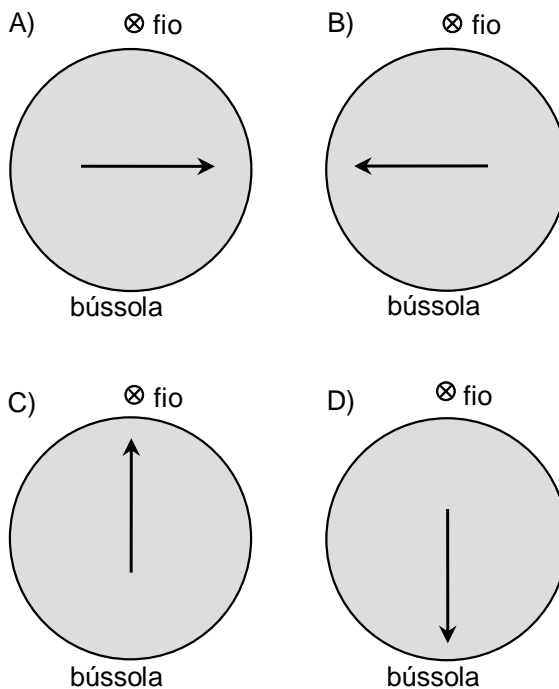
- A) $P/8$
 B) $P/4$
 C) $P/2$
 D) P

44. Para ir de um andar inferior a um andar superior de uma loja, uma pessoa de 50 kg tem de subir um lance de escada, com 3 m de distância vertical da base ao topo (ver figura). Considere a aceleração da gravidade 10 m/s^2 . Ao chegar ao andar de cima, a energia potencial gravitacional dessa pessoa terá:



- A) aumentado em 1500 J.
 B) diminuído em 1500 J.
 C) aumentado em 750 J.
 D) diminuído em 750 J.
45. Um cozinheiro mistura num recipiente um litro de água, a uma temperatura de 80°C , e dois litros de água, a 10°C . Após algum tempo, a mistura entra em equilíbrio térmico com o ambiente a 30°C . Sabe-se que a densidade da água é de 1 kg/L e que o seu calor específico é igual a $1 \text{ cal/(g}^\circ\text{C)}$. Considerando que ocorreram trocas de calor internamente na mistura e também entre esta e o ambiente, pode-se concluir que, nesse processo, o ambiente:
- A) perdeu 10.000 cal de calor.
 B) ganhou 10.000 cal de calor.
 C) ganhou 1.000 cal de calor.
 D) perdeu 1.000 cal de calor.
46. Se um objeto encontra-se a 160 cm de um espelho esférico convexo com módulo de distância focal igual a 40 cm, sua imagem é:
- A) virtual, distando 32 cm do espelho.
 B) real, distando 32 cm do espelho.
 C) virtual, distando 53,3 cm do espelho.
 D) real, distando 53,3 cm do espelho.

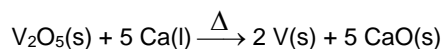
47. Um longo fio retilíneo encontra-se perpendicular ao plano horizontal da página, com uma corrente elétrica constante que o percorre no sentido 'entrando na página' (indicado pelo símbolo \otimes nas figuras abaixo). Um estudante posiciona uma bússola próxima ao fio, com a sua superfície sobre o plano da página. Assinale, a seguir, a alternativa que corresponde ao sentido apontado pela agulha imantada da bússola. (Considere uma pequena agulha, articulada no centro da bússola, e despreze a influência dos atritos e do campo magnético terrestre.)



QUÍMICA

48. A idade de uma garrafa de vinho foi determinada pelo monitoramento do nível de trítio (^3_1H) no vinho. O número de prótons, nêutrons e elétrons presentes em um átomo de trítio são, respectivamente:
- A) 3, 2 e 1
 B) 1, 2 e 3
 C) 1, 2 e 1.
 D) 2, 1 e 2
49. Nitrogênio, fósforo, oxigênio e enxofre existem como N_2 , P_4 tetraédrico, O_2 e moléculas cíclicas de S_8 . Dentre essas moléculas, é correto afirmar que:
- A) apenas a molécula do nitrogênio possui ligação π .
 B) a molécula de P_4 tetraédrico apresenta quatro ligações polares.
 C) a molécula do oxigênio possui 2 ligações π .
 D) todas apresentam ligações covalentes apolares.

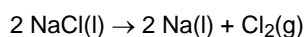
50. O vanádio é um metal leve de cor cinza prateado, usado na fabricação de aço duro para automóveis e molas de caminhões. Esse metal pode ser produzido pela redução do seu óxido com o cálcio, como mostrado pela equação química:



Calcule a massa de vanádio produzida quando 2,0 kg de óxido de vanádio(V) são aquecidos com 2,3 kg de cálcio e determine a massa do reagente em excesso (RE) ao final da reação.

(Dados: Massas molares em $\text{g} \cdot \text{mol}^{-1}$: O = 16; Ca = 40; V = 51.)

- A) 1,1kg de V e 0,1 kg do RE.
 B) 2,1kg de V e 0,2 kg do RE.
 C) 3,2kg de V e 0,3 kg do RE.
 D) 4,2kg de V e 0,5 kg do RE.
51. O **fosfato de cálcio (X)** é um sólido branco, cristalino que compõe 60% dos ossos de um ser humano. É usado na agricultura como fertilizante e pode ser obtido pela reação entre o **ácido fosfórico (Y)** e o **hidróxido de cálcio (Z)**. Assinale a alternativa que apresenta as fórmulas químicas das substâncias indicadas por X, Y e Z, respectivamente.
- A) $\text{Ca}_2(\text{PO}_4)_3$, H_2PO_3 e $\text{Ca}(\text{OH})_2$
 B) $\text{Ca}_3(\text{PO}_4)_2$, H_3PO_4 e $\text{Ca}(\text{OH})_2$
 C) CaPO_4 , H_2PO_4 e $\text{Ca}(\text{OH})_3$
 D) $\text{Ca}_3(\text{PO}_4)_2$, H_3PO_4 e CaOH
52. A produção industrial de sódio metálico e gás cloro faz uso do processo Downs, no qual cloreto de sódio fundido é eletrolisado, e a reação global pode ser representada por:

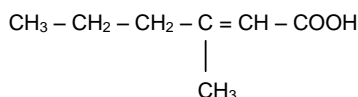


A partir da análise dessa reação redox, afirma-se que:

- 1) ocorre oxidação do íon Na^+ .
- 2) ocorre redução do íon Cl^- .
- 3) para a produção de 1 mol de gás cloro, são necessários 2 mol de elétrons.
- 4) há transferência de elétrons do íon Na^+ para o íon Cl^- .

Está(ão) correta(s) apenas:

- A) 1, 2 e 3
 B) 2 e 3
 C) 3 e 4
 D) 3
53. O odor de nossa transpiração é devido, em parte, aos ácidos carboxílicos. Nosso suor elimina muitas substâncias orgânicas, que são decompostas por bactérias existentes em nossa pele, formando compostos de odor desagradável, como por exemplo, o de fórmula estrutural:

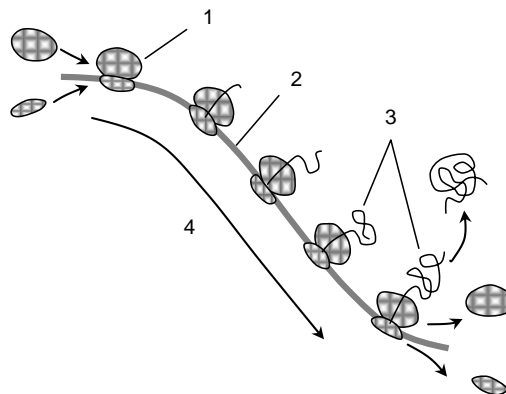


O nome IUPAC do composto acima é:

- A) ácido 3-propil-2-butenóico.
 B) ácido 3-metil-2-hexenóico.
 C) 3-metil-2-hexenal.
 D) 2-hexenoato de metila.

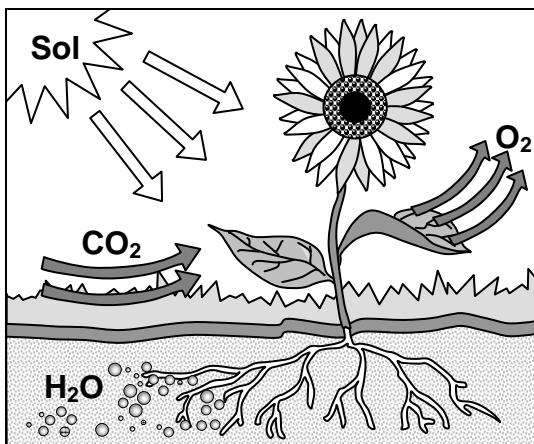
BIOLOGIA

54. O código genético comanda a síntese de proteínas de forma semelhante em todos os organismos vivos. Sobre este assunto, observe a figura abaixo e assinale a alternativa que identifica corretamente 1, 2, 3 e 4, nesta ordem.



- A) Ribossomo; RNA de transferência; Ácido desoxiribonucléico; Transcrição.
 B) Mitocôndria; RNA ribossomal; Proteína; Tradução.
 C) Ribossomo; RNA mensageiro; Cadeia polipeptídica; Tradução.
 D) Ribossomo; Cadeia polipeptídica; RNA mensageiro; Transcrição.
55. A automedicação de antibióticos é um comportamento que pode provocar o surgimento de bactérias multirresistentes. Considerando a teoria do processo evolutivo dos organismos vivos, defendida por Darwin e Wallace, é correto afirmar que:
- A) a ingestão de antibióticos sem prescrição médica provoca mutações nas bactérias, tornando-as resistentes.
 B) os antibióticos ingeridos eliminam as bactérias sensíveis, enquanto que aquelas naturalmente resistentes sobrevivem.
 C) o desenvolvimento e a utilização de antibióticos cada vez mais potentes, mesmo em infecções de fácil tratamento, é a solução para evitar o surgimento de bactérias resistentes.
 D) antibióticos prescritos somente atuam contra as bactérias que causam a infecção; assim não há risco de resistência entre as bactérias não relacionadas à doença.

56. O processo metabólico celular, sumarizado na figura abaixo:



- A) tem como principais etapas a glicólise, o ciclo de Krebs e a cadeia de transporte de elétrons, processos que ocorrem na presença da luz.
- B) é formado por reações anabólicas que acumulam energia para o organismo.
- C) é formado por reações catabólicas que liberam energia para a realização do trabalho celular.
- D) tem como produtos finais água, oxigênio e gás carbônico.

57. De acordo com as Leis de Mendel, os genes são segregados independentemente durante a formação dos gametas. Assim, é correto afirmar que:

- A) tal segregação ocorre na meiose e na mitose, em organismos eucariontes e procariontes.
- B) a variabilidade genética decorre da troca de cromátides entre cromossomos homólogos durante a meiose.
- C) as relações de dominância e recessividade entre alelos cromossômicos podem se alterar da geração F1 para a geração F2.
- D) a expressão do fenótipo pode variar de geração para geração, mas depende exclusivamente do genótipo.

58. Sobre os processos relacionados à respiração humana, é correto afirmar:

- A) o oxigênio inalado na respiração se associa à mioglobina e é carreado através do sangue arterial a todas as células do organismo.
- B) as hemáceas carregam gás carbônico dos tecidos aos pulmões através de artérias, veias e capilares.
- C) o oxigênio inspirado e o gás carbônico expirado são, respectivamente, reagentes e produtos metabólicos da respiração celular.
- D) pessoas anêmicas geralmente possuem carência de magnésio no organismo, o que diminui a afinidade da hemoglobina ao oxigênio.

59. A biodiversidade brasileira é reconhecida internacionalmente, em especial devido à Floresta Amazônica. Contudo, cada bioma possui características exclusivas que diferenciam uns dos outros. Assim, aponte, dentre as alternativas abaixo, aquela que mostra a correspondência correta:

- A) caatinga – plantas xerófitas e chuvas intermitentes.
- B) manguezal – plantas com raízes aéreas, vivendo em solo pobre em matéria orgânica.
- C) cerrado – vegetação arbórea formada por árvores de grande porte.
- D) pantanal – vegetação de mata ciliada e terreno árido.

SOCIOLOGIA

60. Por que a Sociologia? Porque a Sociologia tem como finalidade:

- A) garantir padrões éticos que apontem caminhos confiáveis de moralidade para uma saudável convivência humana.
- B) definir os parâmetros dentro dos quais os grupos humanos devem organizar seus modos de convivência.
- C) estabelecer cientificamente as relações entre os fatos sociais que caracterizam a vivência dos grupos humanos.
- D) regulamentar os comportamentos dos grupos humanos, hierarquizar-los e garantir sua legitimidade.

61. O processo de socialização humana tem como condição básica:

- A) a partilha da existência com outros seres da mesma espécie.
- B) a igualdade de recursos culturais, cognitivos e socioeconômicos.
- C) a convergência de objetivos específicos a médio e a longo prazos.
- D) a adesão aos mesmos credos religiosos e valores éticos.

62. As diferentes instituições sociais, organizadas ao longo da História, demonstram o princípio de que:

- 1) a atividade humana pressupõe o pleno uso da liberdade individual.
- 2) a realização do homem depende também do seu grau de adesão aos interesses coletivos.
- 3) a sociabilidade é um dos atributos essenciais da natureza humana.
- 4) as sociedades culturalmente mais desenvolvidas são hierarquizadas.

Estão corretas:

- A) 1 e 4 apenas
- B) 1 e 3 apenas
- C) 2 e 3 apenas
- D) 1, 2, 3 e 4

FILOSOFIA

“O homem quer saber o porquê de cada coisa, de cada fato, pelo motivo de que aquela coisa ou aquele fato não é plenamente inteligível em si mesmo, mas pede algo que o torne inteligível. Os porquês que nos podemos e devemos propor, para explicar as coisas e os fatos do mundo da experiência – isto é, do mundo que cai sob os nossos sentidos – não encontram resposta satisfatória no conhecimento dado pela experiência. Por conseguinte, a fim de satisfazermos esta exigência racional, para tornar inteligível o mundo da experiência, somos levados a transcender esse tipo de conhecimento”.

(Umberto Padovani; Luis Castagnola. *História da Filosofia*. Rio de Janeiro, Edições Melhoramentos, 1970, p. 54).

63. A transcendência de que fala o texto acima é possível:

- A) pela Filosofia, que, dependente da dimensão religiosa do homem, garante o esclarecimento total de qualquer objeto.
- B) pela reflexão filosófica, que é puramente racional na busca dos últimos porquês das coisas.
- C) pelo conhecimento científico-filosófico, pelo qual, partindo-se do conhecimento das causas, chega-se a entender seus efeitos.
- D) pelo conhecimento das implicações filosóficas, que subjazem ao mundo dos mitos e das divindades.

64. Os grandes períodos da Filosofia são:

- A) a Filosofia Escolástica, a Filosofia Empirista, a Filosofia Racionalista e a Filosofia Criticista.
- B) a Filosofia greco-romana, a Filosofia Medieval, a Filosofia Moderna e a Filosofia Contemporânea.
- C) o período naturalista, o período antropológico, o período religioso, o período ético.
- D) a Filosofia pré-socrática, o período sofístico, o período pós-socrático e a Filosofia hedonista.

65. A Liberdade, enquanto atributo essencial da natureza humana, consiste na possibilidade de alguém:

- A) poder satisfazer seus desejos e anseios pessoais.
- B) poder exercitar a sua capacidade de 'ir e vir', sem coerções.
- C) fazer uma escolha consciente entre dois bens.
- D) seguir, voluntariamente, os preceitos de uma religião.